

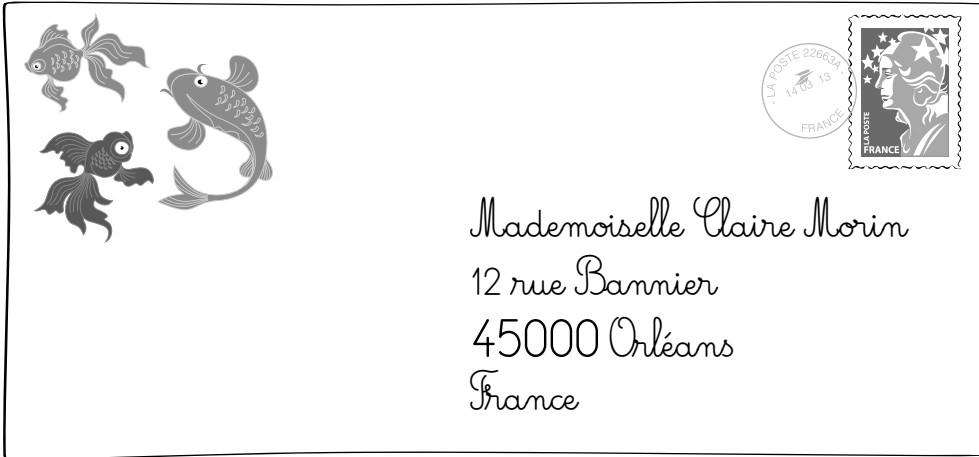
Un plan, une carte : pour quoi faire ?

1 L'adresse de Claire

- Relie chaque étiquette à l'information qui lui correspond.

Nom

Rue



Ville

Pays

Département

2 Où trouver chaque élément de cette adresse ?

Carte de l'Europe

- Sur la carte, entoure l'élément de l'adresse que tu as trouvé.

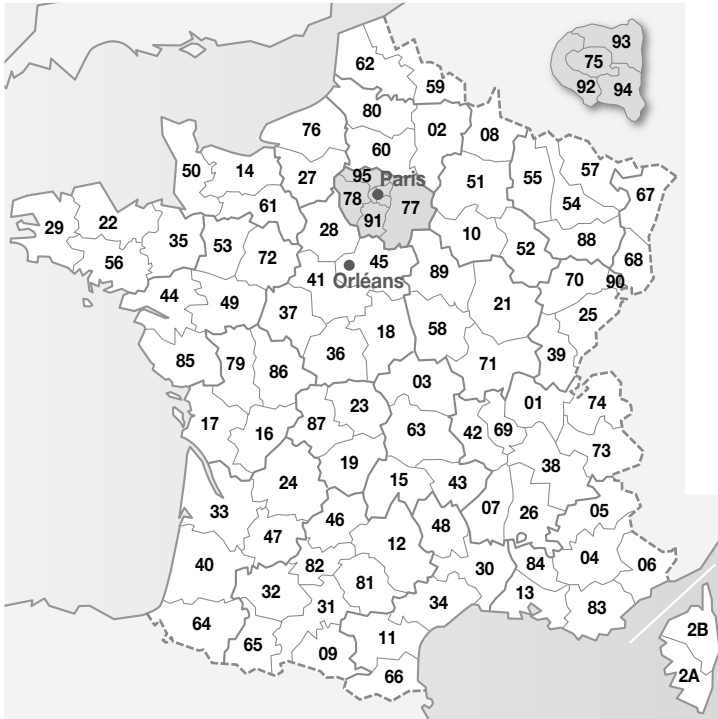
- Est-ce :

- une rue ;
- une ville ;
- un département ;
- un pays ?

Coche la bonne réponse.



Carte des départements de France




● Sur la carte, entoure les éléments que tu as trouvés.

● Est-ce :

- une rue ; une ville ;
 un département ; un pays ?

Coche les bonnes réponses.



Guadeloupe



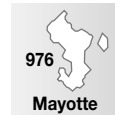
Martinique



Guyane



Réunion



Mayotte

Le plan d'Orléans

● Sur le plan, entoure l'élément que tu as trouvé.

● Est-ce :

- une rue ; une ville ;
 un département ; un pays ?

Coche la bonne réponse.

● Lequel représente l'espace le plus grand : le plan/la carte ? Entoure la bonne réponse.



As-tu bien compris ?

■ Complète le texte avec les mots importants.

Sur le , on trouve l'emplacement et le nom des rues. Sur la , on trouve des espaces plus grands comme les départements et les pays.

Mots importants

- carte
- plan